



Proves d'accés a la universitat

Geografia

Sèrie 5

Qualificació			TR	
Exercici 1	1			
	2			
Exercici 2	1			
	2			
Exercici 3	1			
	2			
Exercici 4	1			
	2			
Exercici 5	1			
	2			
	3			
Suma de notes parcials				
Qualificació final				

Etiqueta de l'estudiant

Ubicació del tribunal

Número del tribunal

Etiqueta de qualificació

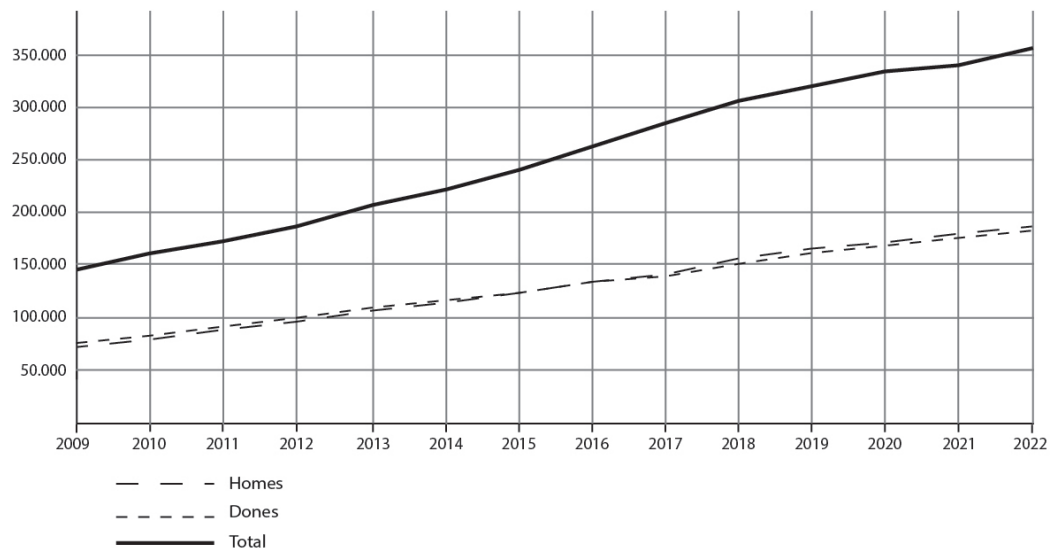
Etiqueta de correcció

Responeu a QUATRE dels cinc exercicis següents. Cada exercici val 2,5 punts. En el cas que respongueu a més exercicis, només es valoraran els quatre primers.

Exercici 1

Observeu el gràfic següent:

Població catalana resident a l'estranger (2009-2022)



FONT: Institut d'Estadística de Catalunya (Idescat) [en línia].

1. Observeu el gràfic sobre l'evolució del nombre de catalans residents a l'estranger i contesteu les qüestions següents:
[1,5 punts]
a) Expliqueu l'evolució del nombre de residents a l'estranger durant el període 2009-2022.

b) Creieu que hi ha un biaix de gènere en la població catalana resident a l'estranger?
Raoneu la resposta.

2. Una part dels residents catalans a l'estranger són joves investigadors que duen a terme la seva recerca en equips de centres i universitats estrangers.

[1 punt]

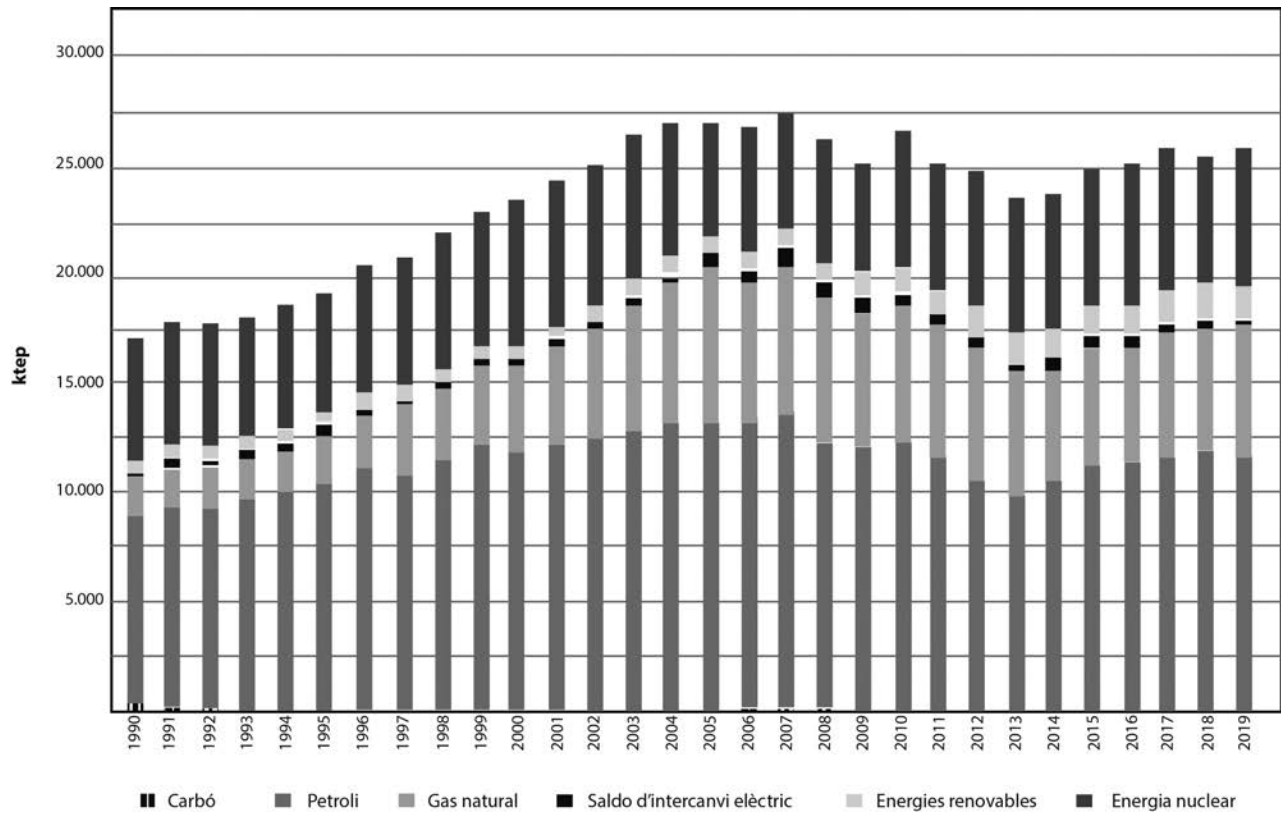
a) Quines són les causes que els han portat a residir a l'estranger?

b) Quines conseqüències té, per al país emissor, l'emigració de persones joves amb un nivell alt de formació?

Exercici 2

Observeu el gràfic següent:

Evolució del consum d'energia primària a Catalunya (1990-2019)



FONT: Institut Català d'Energia (ICAEN) [en línia].

1. El consum d'energia és un indicador del grau de desenvolupament econòmic d'un país. A partir del gràfic, responeu a les qüestions següents:
[1,5 punts]
a) Expliqueu l'evolució del consum total i del consum de les diverses fonts d'energia primària a Catalunya des de l'any 1990 fins al 2019.

b) Es pot afirmar que Catalunya és energèticament dependent? Justifiqueu la resposta.

c) Catalunya ha avançat en la transició energètica i la descarbonització? Raoneu la resposta.

2. Les energies renovables han experimentat un gran desenvolupament en les darreres dècades. Responen a les qüestions següents:

[1 punt en total]

a) Quines són, per ordre d'importància, les tres fonts principals d'energia renovable a Catalunya?

[0,25 punts]

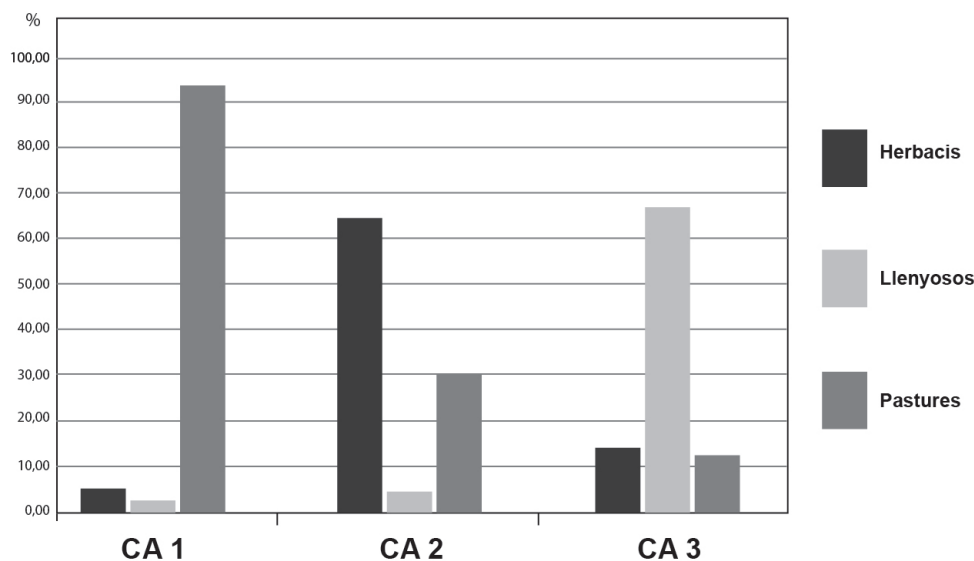
b) Expliqueu per què es van començar a utilitzar les energies renovables i quins avantatges i inconvenients tenen.

[0,75 punts]

Exercici 3

Observeu el gràfic següent:

Aprofitament del sòl en tres comunitats autònomes (2020)



FONT: Elaboració pròpia a partir de les dades publicades per l'Institut Nacional de Estadística (INE) a *Censo agrario 2020*.

El gràfic mostra el percentatge dels tipus principals d'aprofitament del sòl a tres comunitats autònomes: Castella i Lleó, Comunitat Valenciana i Cantàbria.

1. Indiqueu a quina de les tres comunitats autònomes correspon cada cas representat en el gràfic (CA 1, CA 2, CA 3). Justifiqueu la resposta segons el tipus de paisatge agrari predominant i els condicionants climàtics de cada comunitat autònoma.

[1,5 punts]

2. Les dimensions mitjanes de l'explotació agrària són de 5,90 ha a la Comunitat Valenciana, 29,96 ha a Cantàbria i 63,02 ha a Castella i Lleó.

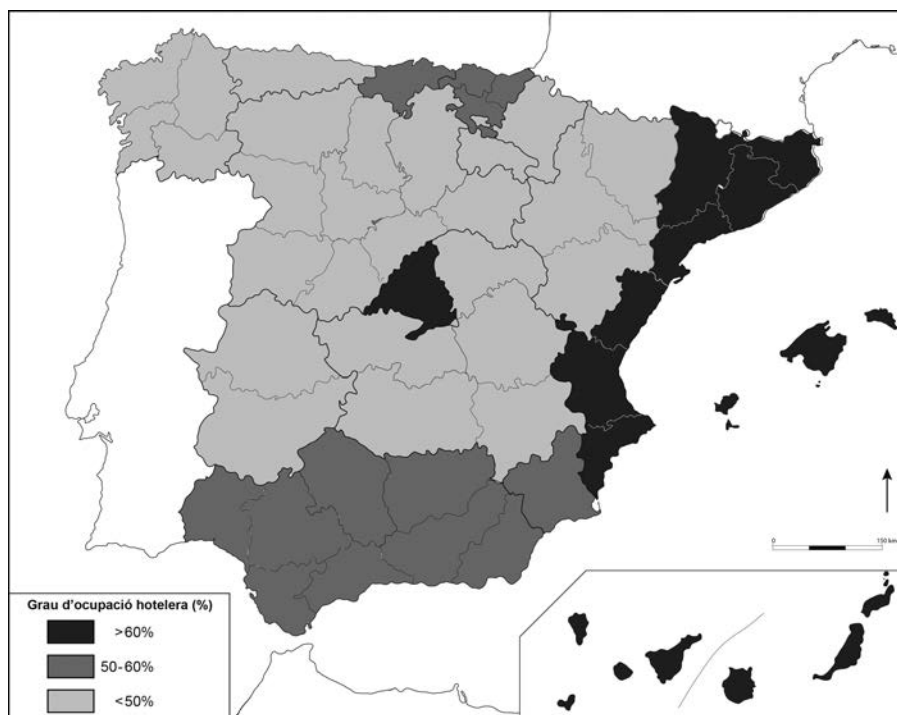
Expliqueu per què es donen aquestes diferències. Relacioneu la resposta amb els tipus principals d'aprofitament del sòl.

[1 punt]

Exercici 4

Observeu el mapa següent:

Grau d'ocupació hotelera per comunitats autònomes (2019)



FONT: INSTITUTO NACIONAL DE ESTADÍSTICA (INE). *España en cifras 2020* [en línia].

Espanya és una de les primeres destinacions turístiques del món. El nombre de turistes que la visiten i el volum d'ingressos que aporten fan que el turisme tingui una gran importància econòmica per a Espanya, tot i que presenta una distribució desigual en el territori.

1. Responen a les qüestions següents tenint en compte el mapa:

[1,5 punts]

a) Esmenteu el nom de les cinc comunitats autònomes amb un grau d'ocupació turística superior al 60 %.

b) Expliqueu quin tipus de turisme es practica majoritàriament a Espanya i quines són les seves característiques més importants.

c) Escriviu el nom de cinc comunitats autònomes amb un grau d'ocupació turística inferior al 50 % i proposeu dues mesures per a potenciar el turisme en aquests territoris.

2. Exposeu quatre conseqüències negatives del model turístic actual sobre el paisatge, els recursos del territori i l'economia.

[1 punt]

Exercici 5

Llegiu el text següent:

La cara més crua de la moda barata

Les autoritats de Bangladesh havien localitzat fins ahir cinc-cents quaranta-tres cadàvers entre la runa del complex tèxtil de Savar, prop de Dhaka, esfondrat el 24 d'abril. Fins aquell dia, més de tres mil persones tallaven i cosien roba per a marques de moda internacionals, com H&M o Zara, en aquell edifici.

Aquest fet va posar el país asiàtic en el punt de mira dels occidentals, avesats a comprar roba barata sense fer-se preguntes i, per tant, obviant que per a comprar barat s'ha de produir més barat encara i que, per a produir més barat, els treballadors han de cobrar sous miserables i treballar moltes més hores del que a Occident està permès. A l'Àsia, les condicions abusives, sovint d'esclavitud, persisteixen.

Fins als anys setanta la confecció era un sector industrial molt important als països rics, però a partir d'aleshores (i sobretot d'ençà dels vuitanta), amb l'embranchida de les polítiques neoliberals i la febre del lliure comerç, va començar una deslocalització massiva de la producció de roba, que es va traslladar al territori asiàtic amb la finalitat d'abaratir els costos laborals. En concret, Bangladesh té els salaris i els costos laborals industrials més baixos del món. Un treballador cobra vint-i-vuit euros de salari mínim.

Adaptació feta a partir d'un text publicat a *El Punt Avui* (5 maig 2013)

El text descriu les característiques de la producció tèxtil deslocalitzada als països del Tercer Món. Contesteu les qüestions següents:

1. Expliqueu com l'economia de mercat ha organitzat la producció a escala mundial d'acord amb els objectius bàsics d'aquest model econòmic.

[1 punt]

2. Analitzeu els efectes de la globalització econòmica centrant-vos en les qüestions següents:

[1 punt]

a) Quina ha estat la distribució de la riquesa i la pobresa al món en els darrers cinquanta anys?

b) Quines diferències hi ha entre els països rics i els països pobres pel que fa a l'estat del benestar?

3. Expliqueu quin paper tenen els països rics en l'exploració de recursos naturals a escala mundial i quina relació estableixen amb els països pobres on es troben aquests recursos.
[0,5 punts]

--	--

--	--

Etiqueta de l'estudiant



Institut
d'Estudis
Catalans